

## Глобальна мережа Інтернет

Автор: СШЛНІТ

### **Задание #1**

Вопрос:

Згрупуйте запропоновані особливості використання кабельного модему для підключення до Інтернету за двома ознаками - переваги та недоліки:

Укажите соответствие для всех 5 вариантов ответа:

- 1) переваги
- 2) недоліки

- стабільність підключення
- висока швидкість
- низька вартість послуги та обладнання
- зниження швидкості в години пікового завантаження
- неможливість підключення у віддалених місцевостях

### **Задание #2**

Вопрос:

Згрупуйте запропоновані особливості використання телефонного модему для підключення до Інтернету за двома ознаками - переваги та недоліки:

Укажите соответствие для всех 9 вариантов ответа:

- 1) переваги
- 2) недоліки

- використання звичайної телефонної лінії для швидкісної передачі даних
- стабільна швидкість передачі, що не залежить від кількості підключених користувачів
- найбільш зручний спосіб підключення (1-2 дні, без виїзду фахівців)
- доступність і розмаїтість устаткування
- можливість самостійної установки обладнання
- якщо телефонну лінію використовує охоронна сигналізація, підключити Інтернет неможливо
- якщо телефон підключений через блокатор, підключити Інтернет неможливо
- швидкість доступу залежить від якості телефонної лінії
- швидкість доступу залежить від протяжності телефонної лінії

### **Задание #3**

Вопрос:

Згрупуйте запропоновані особливості використання мобільного модему для підключення до Інтернету за двома ознаками - переваги та недоліки:

Укажіть соответствие для всех 6 вариантов ответа:

- 1) переваги
- 2) недоліки

- дає можливість підключення до Інтернету навіть у досить віддалених місцях
- тарифи постійно знижуються та урізноманітнюються, у тому числі й за рахунок проведення акцій
- є найбільш перспективним для подальшого вдосконалення
- ціни на мобільний Інтернет поки що вищі, ніж на стаціонарний
- не у всіх місцях є ще мобільне покриття
- швидкість Інтернету у конкретно взятому районі залежить від кількості одночасно підключених користувачів

#### **Задание #4**

Вопрос:

Згрупуйте запропоновані особливості використання супутникового модему для підключення до Інтернету за двома ознаками - переваги та недоліки:

Укажіть соответствие для всех 7 вариантов ответа:

- 1) переваги
- 2) недоліки

- автономність від наземних комунікацій
- висока швидкість доступу
- відносна мобільність внаслідок відсутності прив'язки до зони покриття провайдера
- залежить від погодних умов
- висока вартість
- можлива затримка у передачі сигналу
- складність установки

#### **Задание #5**

Вопрос:

Вкажіть відповідність між теоретичними швидкостями доступу до Інтернету у залежності від типу використовуваного модему:

Укажіть соответствие для всех 4 вариантов ответа:

- 1) кабельний модем
- 2) телефонний модем
- 3) мобільний модем
- 4) супутниковий модем

- до 38 Мб/с
- до 8 Мб/с
- до 2 Мб/с

\_\_\_ до 48 Мб/с

### **Задание #6**

*Вопрос:*

Встановіть відповідність між режимами інформаційного обміну та їх функціями:

*Укажите соответствие для всех 2 вариантов ответа:*

- 1) режим on-line
- 2) режим off-line

\_\_\_ постійне з'єднання користувача із сервером; режим реального часу  
\_\_\_ режим відкладеного зв'язку; користувач передає порцію даних чи отримує їх упродовж коротких сеансів зв'язку

### **Задание #7**

*Вопрос:*

Із клавіатури введіть назву організації (у називному відмінку), які забезпечують користувачів певним набором послуг, необхідних для використання ресурсів Інтернету:

*Запишите ответ:*

---

### **Задание #8**

*Вопрос:*

Вкажіть відповідність між ресурсами Інтернету та їх представленнями:

*Укажите соответствие для всех 6 вариантов ответа:*

- 1) апаратний ресурс
- 2) програмний ресурс
- 3) інформаційний ресурс

\_\_\_ модем  
\_\_\_ мережева картка  
\_\_\_ Windows Internet Explorer  
\_\_\_ Opera  
\_\_\_ документи  
\_\_\_ Mozilla FireFox

### **Задание #9**

*Вопрос:*

Вкажіть послідовності чисел, що можуть бути IP-адресами (2 позиції):

*Выберите несколько из 6 вариантов ответа:*

- 1) 194.44.191.132
- 2) 260.190.36.73

- 3) 192.168.1.254
- 4) 223.803.78.71
- 5) 194:150:168:32
- 6) 200.623.12.158

**Задание #10**

*Вопрос:*

На URL-адресі української пошукової системи META вкажіть назву протоколу для доступу до інформаційного ресурсу:

*Укажіть место на изображении:*

**http://www.meta.ua**

**Задание #11**

*Вопрос:*

На URL-адресі української пошукової системи META вкажіть тип інформаційного ресурсу:

*Укажіть место на изображении:*

**http://www.meta.ua**

**Задание #12**

*Вопрос:*

На URL-адресі української пошукової системи META вкажіть адресу сервера, на якому зберігаються інформаційні ресурси:

*Укажіть место на изображении:*

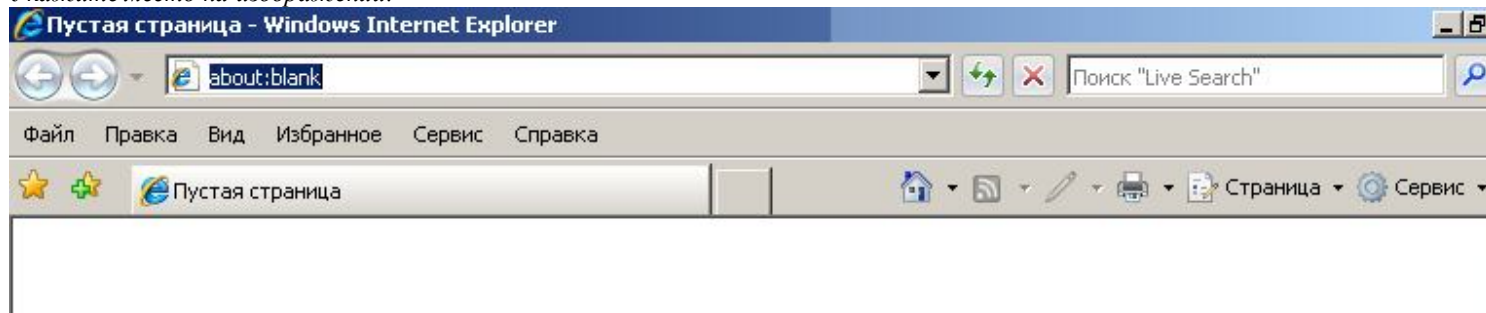
**http://www.meta.ua**

**Задание #13**

*Вопрос:*

На зображенні вкажіть заголовок робочого вікна броузера Windows Internet Explorer:

*Укажіть место на изображении:*

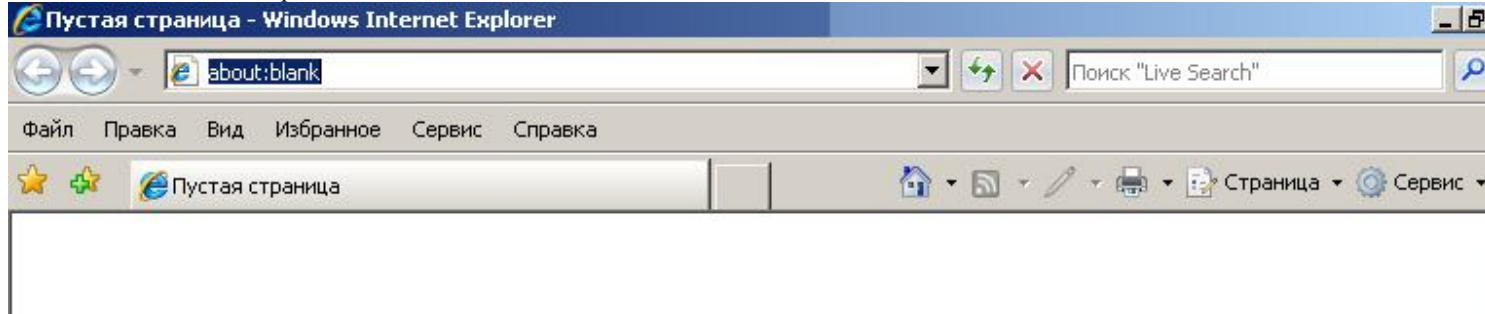


### **Задание #14**

*Вопрос:*

На зображенні вкажіть кнопки керування робочим вікном браузера Windows Internet Explorer:

*Укажіть місце на зображенні:*

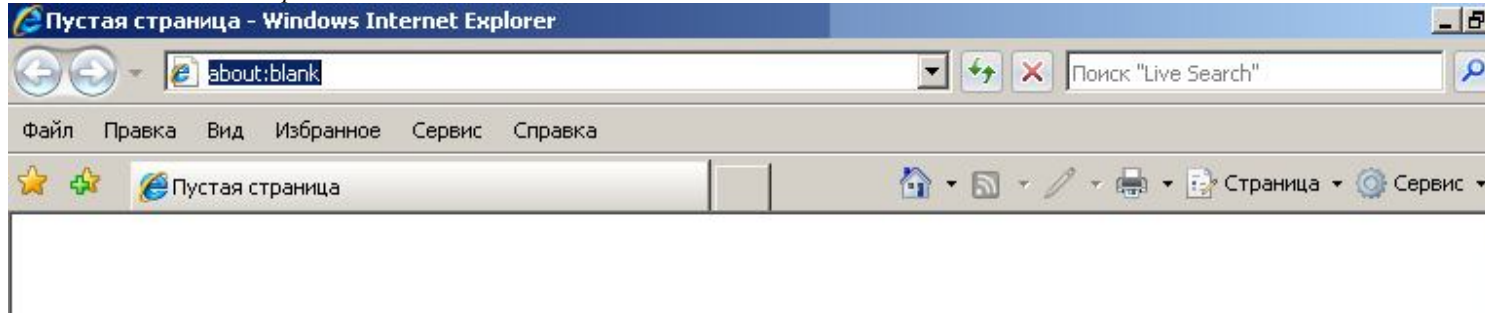


### **Задание #15**

*Вопрос:*

На зображенні вкажіть адресний рядок браузера Windows Internet Explorer:

*Укажіть місце на зображенні:*

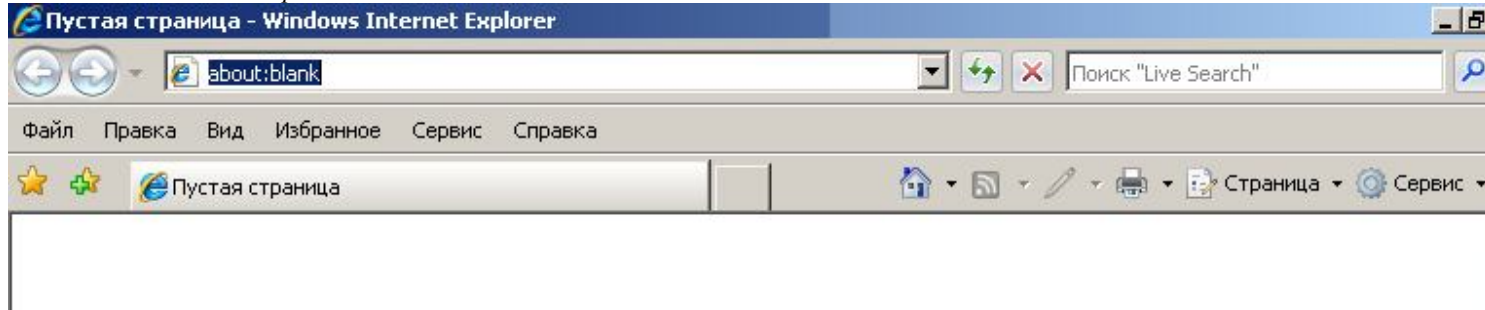


### **Задание #16**

*Вопрос:*

На зображенні вкажіть кнопку для переходу на попередню сторінку, яку було відвідано за допомогою браузера Windows Internet Explorer:

*Укажіть місце на зображенні:*



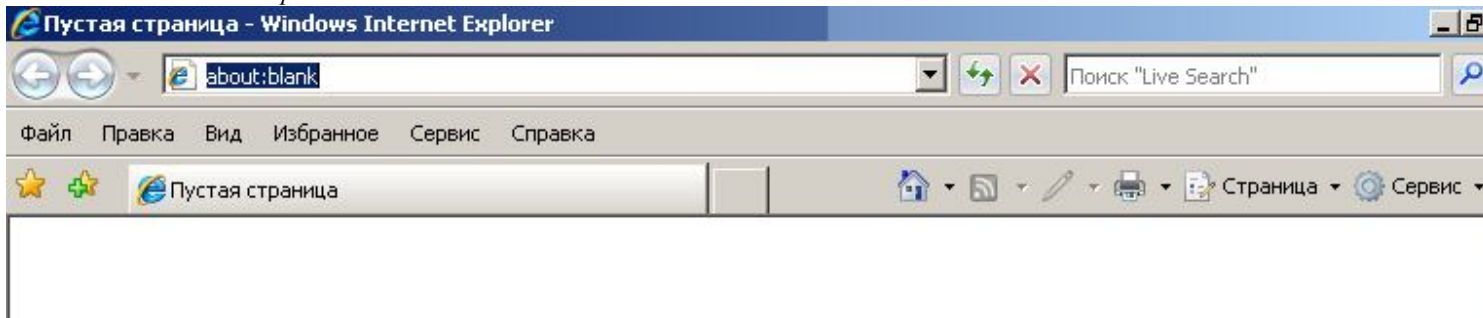
### **Задание #17**

*Вопрос:*

На зображенні вкажіть кнопку для переходу на наступну сторінку, яку було відвідано

за допомогою браузера Windows Internet Explorer:

Укажіть місце на зображенні:

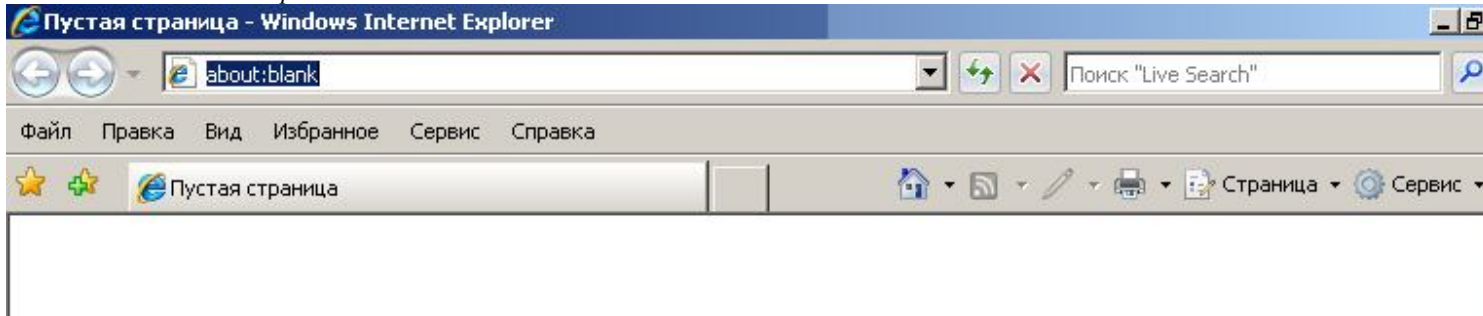


### **Задание #18**

Вопрос:

На зображенні вкажіть головне меню браузера Windows Internet Explorer:

Укажіть місце на зображенні:

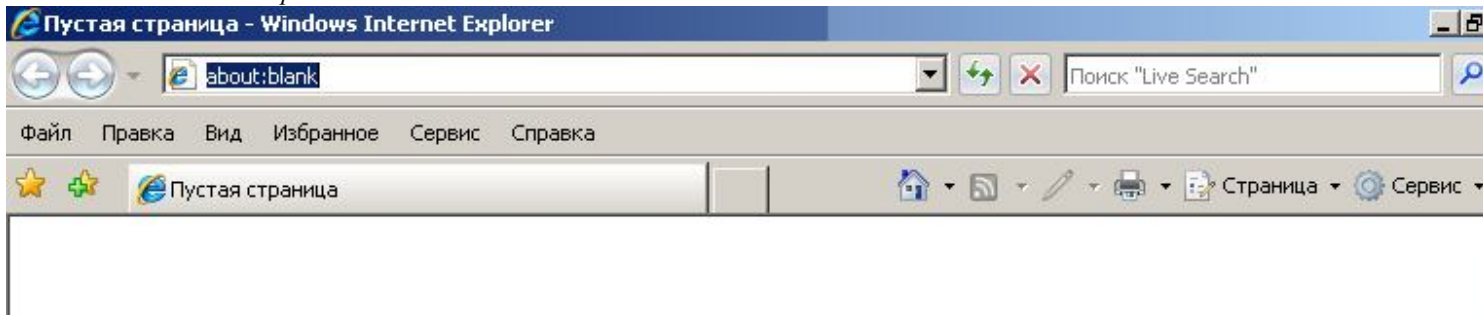


### **Задание #19**

Вопрос:

На зображенні вкажіть кнопку "Обновить" браузера Windows Internet Explorer:

Укажіть місце на зображенні:

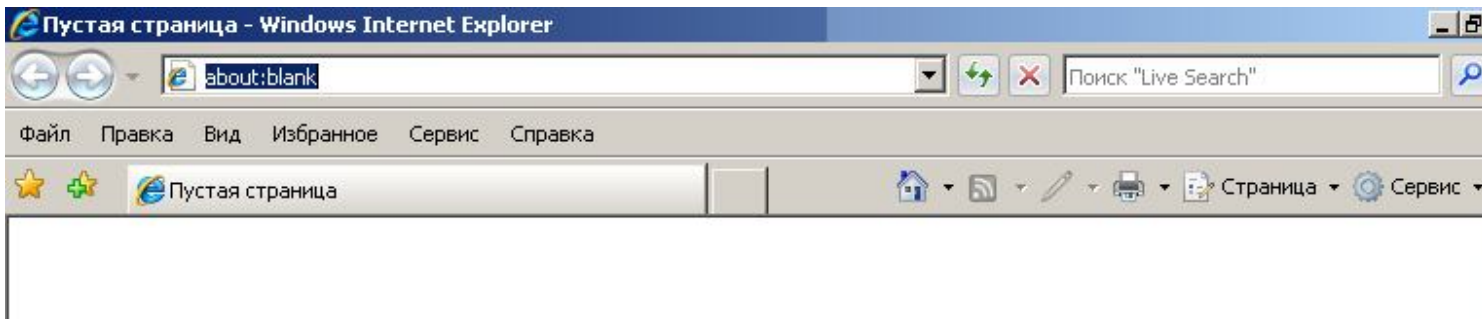


### **Задание #20**

Вопрос:

На зображенні вкажіть кнопку "Остановить" браузера Windows Internet Explorer:

Укажіть місце на зображенні:

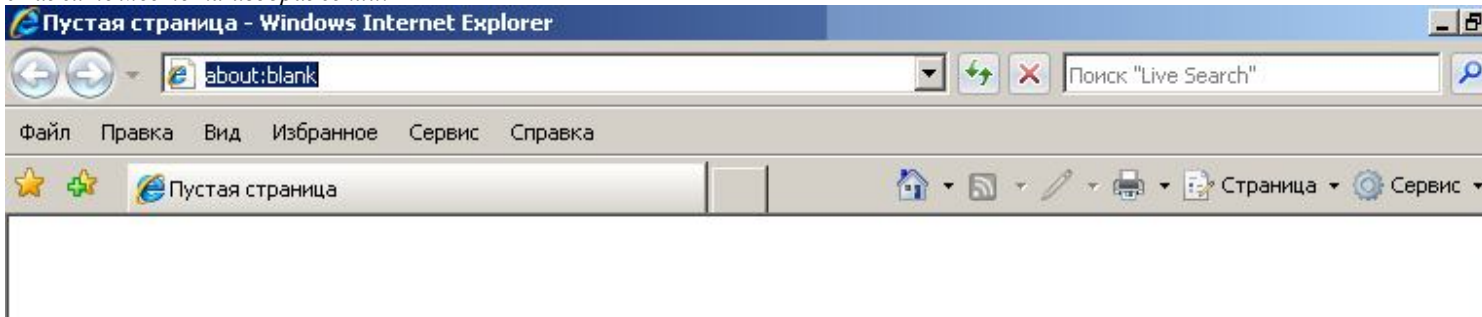


### **Задание #21**

*Вопрос:*

На зображенні вкажіть рядок для пошуку інформації браузера Windows Internet Explorer:

*Укажіть місце на зображенні:*

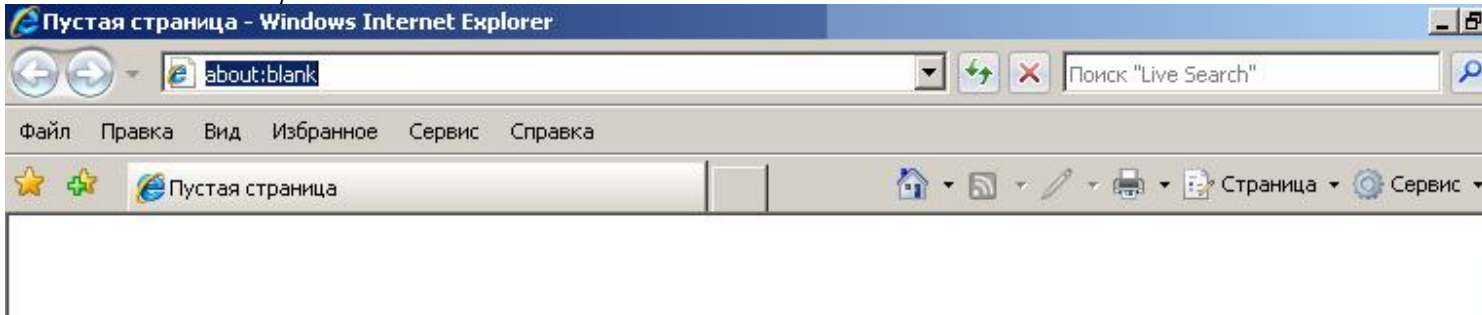


### **Задание #22**

*Вопрос:*

На зображенні вкажіть кнопку "Избранное" браузера Windows Internet Explorer:

*Укажіть місце на зображенні:*

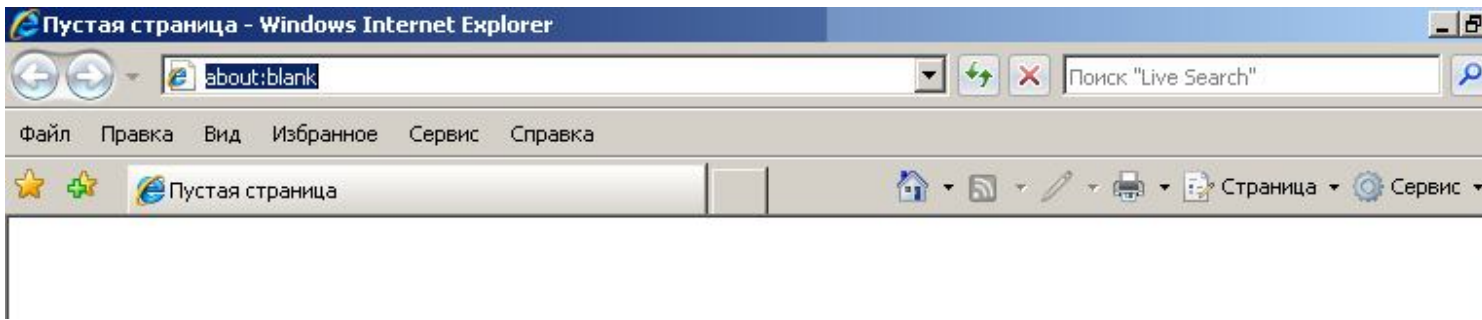


### **Задание #23**

*Вопрос:*

На зображенні вкажіть кнопку "Добавить в избранное" браузера Windows Internet Explorer:

*Укажіть місце на зображенні:*

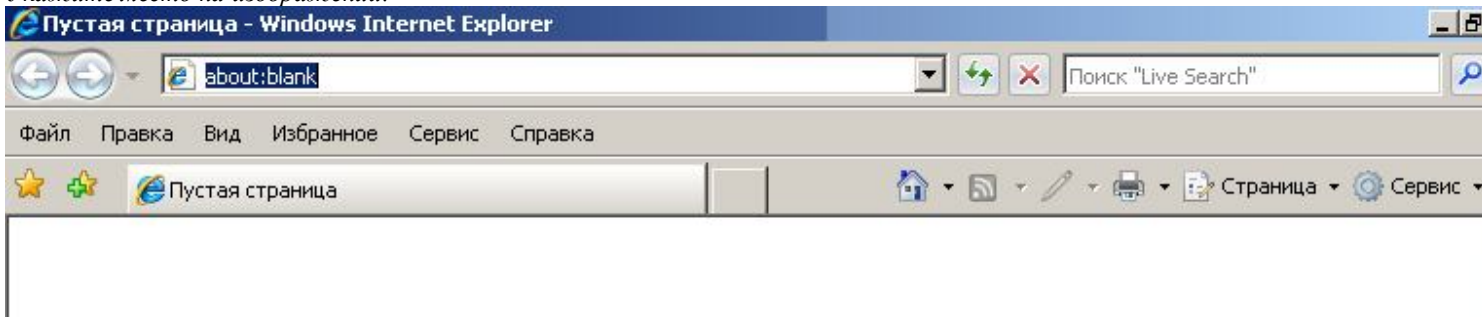


#### **Задание #24**

*Вопрос:*

На зображенні вкажіть кнопку "Создать вкладку" броузера Windows Internet Explorer:

*Укажите место на изображении:*

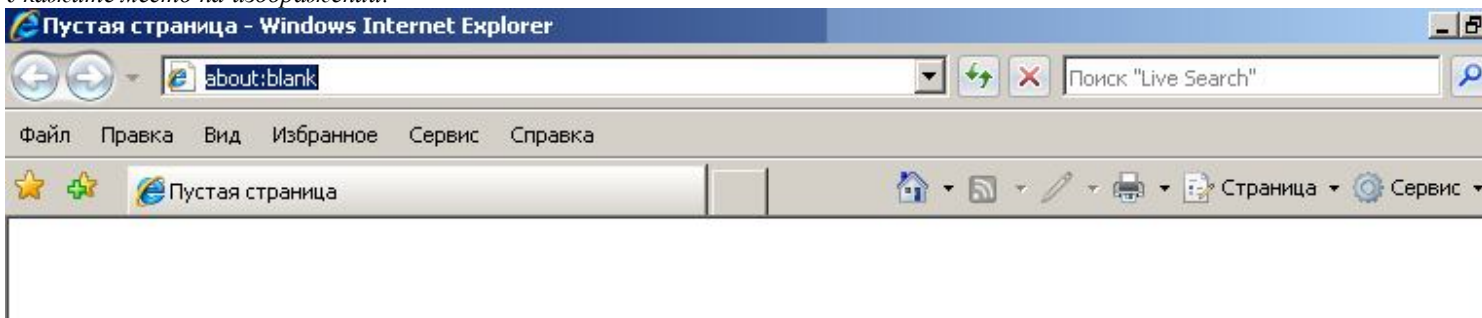


#### **Задание #25**

*Вопрос:*

На зображенні вкажіть кнопку "Домой" броузера Windows Internet Explorer:

*Укажите место на изображении:*




#### **Задание #26**

*Вопрос:*

Як називається виділений кольором або підкреслений текст у гіпертекстовому документі, клацання на якому викликає перехід на інший документ:



Вступ Підручник Словник термінів  
Правовий практикум Тестування до уроків Тематичне оцінювання



## Підручник «Основи правознавства»

**Розділ I. Держава. Право. Суспільство**

- [Тема 1. Держава](#)
- [Тема 2. Право](#)

*Выберите один из 5 вариантов ответа:*

- 1) гіперпосилання
- 2) ресурс
- 3) провайдер
- 4) протокол
- 5) броузер

### **Задание #27**

*Вопрос:*

Встановіть відповідність між діями у всесвітній павутині та термінами

*Укажите соответствие для всех 3 вариантов ответа:*

- 1) навігація
- 2) HTML
- 3) HTTP

\_\_\_ переміщення по веб-сторінках

\_\_\_ створення веб-сторінок

\_\_\_ передача веб-сторінок

### **Задание #28**

*Вопрос:*

Встановіть відповідність між ідентифікаторами доменів та типами організацій (за напрямками діяльності):

*Укажите соответствие для всех 7 вариантов ответа:*

- 1) комерційна
- 2) освітня
- 3) урядова
- 4) військова
- 5) мережева

- 6) некомерційна
- 7) міжнародна

- \_\_\_ .com
- \_\_\_ .edu
- \_\_\_ .gov
- \_\_\_ .mil
- \_\_\_ .net
- \_\_\_ .org
- \_\_\_ .int

### **Задание #29**

*Вопрос:*

Встановіть відповідність між ідентифікаторами доменів та назвами країн:

*Укажите соответствие для всех 5 вариантов ответа:*

- 1) Росія
- 2) Україна
- 3) США
- 4) Велика Британія
- 5) Німеччина

- \_\_\_ .ru
- \_\_\_ .ua
- \_\_\_ .us
- \_\_\_ .uk
- \_\_\_ .de

### **Задание #30**

*Вопрос:*

Встановіть відповідність між назвами програмного забезпечення та його призначенням:

*Укажите соответствие для всех 2 вариантов ответа:*

- 1) браузер
- 2) пошукова служба

- \_\_\_ забезпечення доступу до ресурсів веб-простору
- \_\_\_ забезпечення пошуку відомостей в Інтернеті за темами або ключовими словами

### **Задание #31**

*Вопрос:*

Встановіть відповідність між назвами програм та їх призначенням:

*Укажите соответствие для всех 7 вариантов ответа:*

- 1) броузер
- 2) пошукова служба

- Microsoft Internet Explorer
- Opera
- Mozilla FireFox
- Yandex
- Google
- Meta
- Live Seach

### **Задание #32**

*Вопрос:*

Встановіть відповідність між назвами програм та їх призначенням:

*Укажите соответствие для всех 7 вариантов ответа:*

- 1) архіватор
- 2) пошукова служба

- WinRAR
- WinZIP
- WinARJ
- Yandex
- Google
- Meta
- Live Seach

### **Задание #33**

*Вопрос:*

Як називається саморозпаковуючий архів?

*Запишите ответ:*

---

### **Задание #34**

*Вопрос:*

Встановіть відповідність між назвами програм та їх призначенням:

*Укажите соответствие для всех 7 вариантов ответа:*

- 1) архіватор
- 2) антивірус

- WinRAR
- WinZIP
- WinARJ

- NOD32
- AVAST
- Kaspersky
- AVG

### **Задание #35**

*Вопрос:*

Антивірусна програма, що визначає наявність комп'ютерного вірусу за базою даних, в якій зберігаються відповідні відомості про кожний вірус, називається...

*Выберите один из 4 вариантов ответа:*

- 1) сканер
- 2) ревізор
- 3) монітор
- 4) вакцина

### **Задание #36**

*Вопрос:*

Антивірусна програма, що запам'ятовує стан файлової системи, аналізує стан файлів та службові відомості про диск і порівнює їх із вихідним станом, називається...

*Выберите один из 4 вариантов ответа:*

- 1) сканер
- 2) ревізор
- 3) монітор
- 4) вакцина

### **Задание #37**

*Вопрос:*

Антивірусна програма, що розташовується в оперативній пам'яті і реагує на звернення до операційної системи, які роблять віруси для свого розмноження або виконання руйнівних дій, називається...

*Выберите один из 4 вариантов ответа:*

- 1) сканер
- 2) ревізор
- 3) монітор
- 4) вакцина

### **Задание #38**

*Вопрос:*

Антивірусна програма, що модифікує програми і диски так, що це не відображається на роботі програм, але вірус, від якого виконується вакцинація, вважає програми та диски вже зараженими, називається...

*Выберите один из 4 вариантов ответа:*

- 1) сканер
- 2) ревізор
- 3) монітор
- 4) вакцина

### **Задание #39**

*Вопрос:*

Встановіть відповідність між особистою інформацією та доцільністю її розголошення в Інтернеті:

*Укажите соответствие для всех 9 вариантов ответа:*

- 1) можна розголошувати
- 2) не можна розголошувати

- ім'я та прізвище
- улюблений фільм
- домашня адреса
- номер школи
- фотографія
- номер телефону
- адреса електронної пошти
- пароль електронної поштової скриньки
- дата народження

### **Задание #40**

*Вопрос:*

Розгадайте ребус

*Изображение:*

**2=E**



*Составьте слово из букв:*

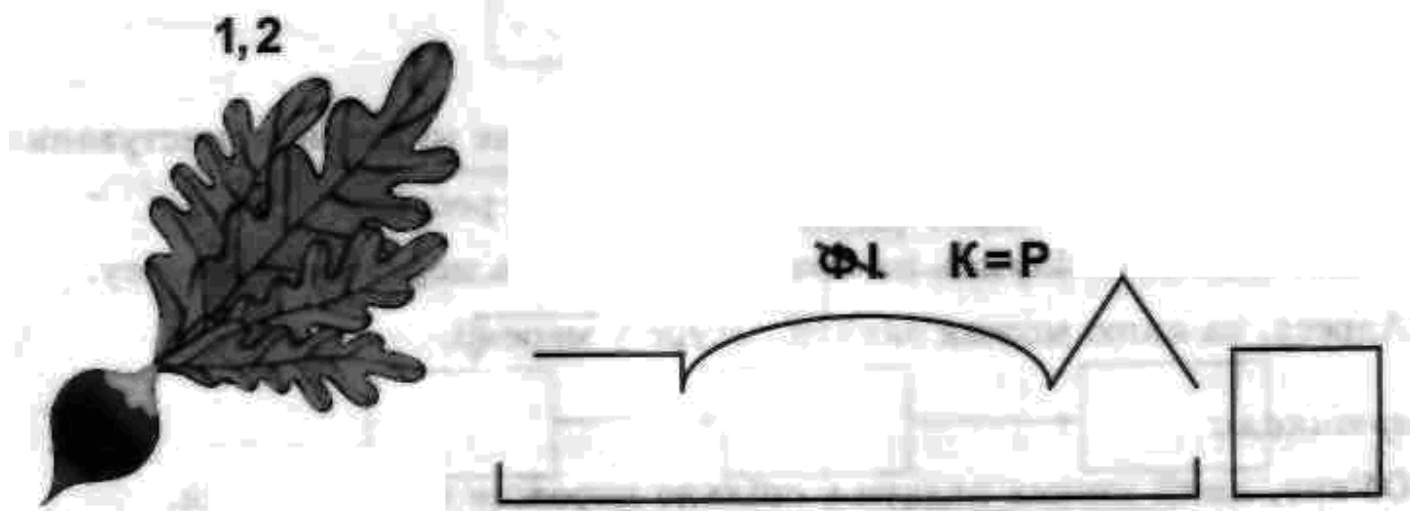
АЖЕЕРМ -> \_\_\_\_\_

**Задание #41**

Вопрос:

Розгадайте ребус

Изображение:



Составьте слово из букв:


ССРЕУР -> \_\_\_\_\_

**Задание #42**

Вопрос:

Розгадайте ребус

Изображение:



Составьте слово из букв:

НТОЕНОЯЧ -> \_\_\_\_\_

Конец