

Графічний редактор Paint (5 клас)

Автор: СШЛНІТ

Описание:

Інформатика. Графічний редактор Paint (5 клас).

Задание #1

Вопрос:

Яке призначення графічних редакторів?

Выберите несколько из 7 вариантов ответа:

- 1) побудова графічних зображень
- 2) архівування файлів
- 3) створення бази даних
- 4) обробка текстової інформації
- 5) опрацювання графічних зображень
- 6) редагування тексту
- 7) розархівування файлів

Задание #2

Вопрос:

Які з редакторів є растровими?

Выберите несколько из 4 вариантов ответа:

- 1) Paint
- 2) Adobe Illustrator
- 3) Adobe Photoshop
- 4) Corel Draw

Задание #3

Вопрос:

Які з редакторів є векторними?

Выберите несколько из 4 вариантов ответа:

- 1) Paint
- 2) Adobe Illustrator
- 3) Adobe Photoshop
- 4) Corel Draw

Задание #4

Вопрос:

Вкажіть формати графічних файлів.

Выберите несколько из 5 вариантов ответа:

- 1) *.bmp
- 2) *.png
- 3) *.doc
- 4) *.exe
- 5) *.jpg

Задание #5

Вопрос:

Вкажіть формати графічних файлів.

Выберите несколько из 4 вариантов ответа:

- 1) *.com
- 2) *.gif
- 3) *.jpg
- 4) *.mp3

Задание #6

Вопрос:

Яка команда меню програми Paint призначена для налаштування інтерфейсу?

Выберите один из 4 вариантов ответа:

- 1) Файл
- 2) Вигляд
- 3) Малюнок
- 4) Палітра

Задание #7

Вопрос:

Яка команда меню програми Paint призначена для роботи із набором кольорів?

Выберите один из 4 вариантов ответа:

- 1) Файл
- 2) Вигляд
- 3) Малюнок
- 4) Палітра

Задание #8

Вопрос:

Вкажіть елементи стандартного вікна Paint.

Выберите несколько из 4 вариантов ответа:

- 1) палітра
- 2) рядок меню
- 3) рядок адрес
- 4) рядок стану

Задание #9

Вопрос:

Вкажіть елементи стандартного вікна Paint.

Выберите несколько из 4 вариантов ответа:

- 1) рядок меню
- 2) робоче поле
- 3) рядок адрес
- 4) панель інструментів

Задание #10

Вопрос:

Яке розширення за замовчуванням мають файли, створені у графічному редакторі

Paint?

Выберите один из 4 вариантов ответа:

- 1) *.bmp
- 2) *.jpg
- 3) *.tif
- 4) *.gif

Задание #11

Вопрос:

У графічному редакторі Paint для малювання горизонтальної (або вертикальної, або під кутом 45 градусів) лінії інструментом Лінія потрібно натиснути клавішу:

Выберите один из 4 вариантов ответа:

- 1) Alt
- 2) Shift
- 3) Ctrl
- 4) Tab

Задание #12

Вопрос:

У графічному редакторі Paint для малювання кола інструментом Еліпс потрібно натиснути клавішу:

Выберите один из 4 вариантов ответа:

- 1) Alt
- 2) Shift
- 3) Ctrl
- 4) Tab

Задание #13

Вопрос:

Пронумеруйте послідовність дій для копіювання об'єкта.

Укажите порядок следования всех 5 вариантов ответа:

- ___ виділити курсором мишки ділянку з об'єктом
- ___ вибрати інструмент Виділення
- ___ вибрати команду Правка, Вирізати
- ___ перетягнути об'єкт на нове місце
- ___ вибрати команду Правка, Вставити

Задание #14

Вопрос:

Пронумеруйте послідовність дій для переміщення об'єкта.

Укажите порядок следования всех 5 вариантов ответа:

- ___ виділити курсором мишки ділянку з об'єктом
- ___ вибрати інструмент Виділення
- ___ вибрати команду Правка, Копіювати
- ___ перетягнути об'єкт на нове місце
- ___ вибрати команду Правка, Вставити

Задание #15

Вопрос:

Що відноситься до комп'ютерних зображень?

Выберите несколько из 6 вариантов ответа:


- 1) малюнок
- 2) креслення
- 3) діаграми
- 4) написана розповідь
- 5) фотографія
- 6) надрукований реферат

Задание #16

Вопрос:

Вкажіть на зображенні інструмент Палітра.

Укажите место на изображении:




Задание #17

Вопрос:

Вкажіть на зображенні Панель інструментів редактора.

Укажіть місце на зображенні:




Задание #18

Вопрос:

Вкажіть на зображенні інструмент, за допомогою якого можна ввести текст.

Укажіть місце на зображенні:




Задание #19

Вопрос:

Вкажіть на зображенні інструмент Робоче поле редактора.

Укажите место на изображении:




Задание #20

Вопрос:

Вкажіть на зображенні назву графічного файлу.

Укажіть место на изображении:



Задание #21

Вопрос:

Які способи збільшення масштабу пропонує Paint?

Выберите несколько из 7 вариантов ответа:

- 1) 1x
- 2) 2x
- 3) 4x
- 4) 6x
- 5) 8x
- 6) 3x
- 7) 16x

Задание #22

Вопрос:

Яке максимальне збільшення може надати Paint?

Выберите один из 7 вариантов ответа:

- 1) 1x
- 2) 2x

- 3) 4x
- 4) 6x
- 5) 8x
- 6) 3x
- 7) 16x

Задание #23

Вопрос:

Яке найменше збільшення може надати Paint?

Выберите один из 7 вариантов ответа:

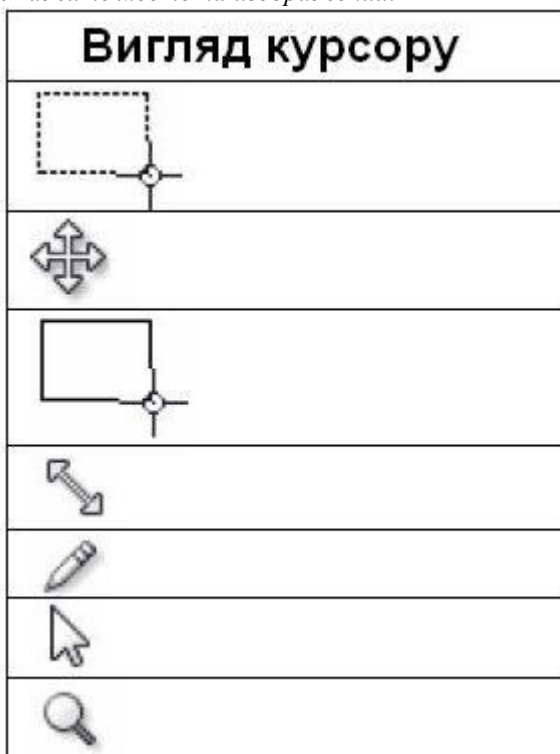
- 1) 1x
- 2) 2x
- 3) 4x
- 4) 6x
- 5) 8x
- 6) 3x
- 7) 16x

Задание #24

Вопрос:

Вкажіть вигляд курсору мишки, якого він набуває під час переміщення виділеного фрагменту.

Укажите место на изображении:

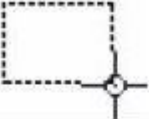

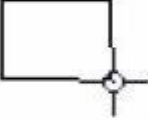






Задание #25

Вопрос:

Вкажіть вигляд курсору мишки, якого він набуває під час зміни розмірів виділеного фрагменту.

Укажите место на изображении:

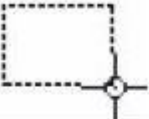

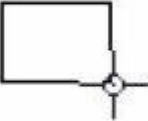




Вигляд курсору








Задание #26

Вопрос:

Вкажіть вигляд курсору мишки, якого він набуває під час зміни масштабу перегляду зображення.

Укажіть место на изображении:

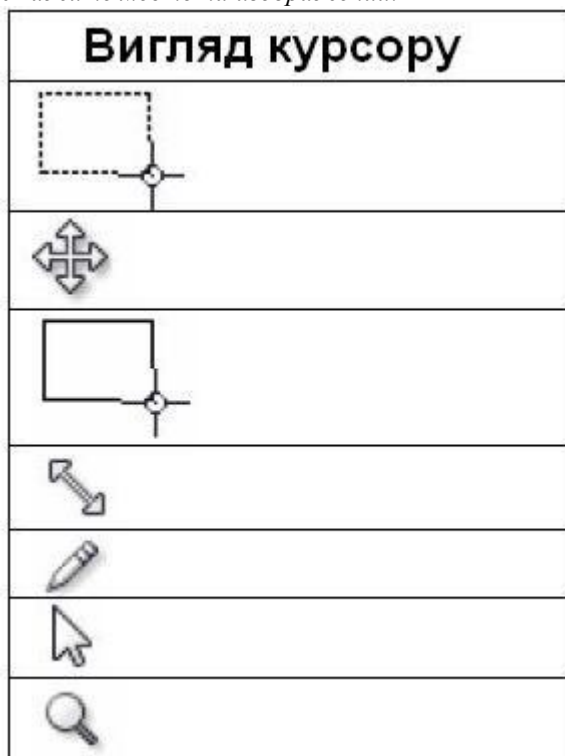
Вигляд курсору








Задание #27

Вопрос:

Вкажіть вигляд курсору мишки, якого він набуває під час вибору інструмента для малювання.

Укажіть місце на зображенні:



Задание #28

Вопрос:

Вкажіть інструменти для створення зображень.

Укажіть місце на зображенні:



Задание #29

Вопрос:

Вкажіть інструменти для виконання операцій із фрагментами зображень.

Укажіть місце на зображенні:



Задание #30

Вопрос:

Вкажіть інструмент для перегляду зображень.

Укажіть місце на зображенні:



Задание #31

Вопрос:

Вкажіть інструменти для редагування зображень.

Укажіть місце на зображенні:



Задание #32

Вопрос:

Із запропонованих літер складіть назву графічного редактора:

Составьте слово из букв:

PANTI -> _____

Задание #33

Вопрос:

Із запропонованих літер складіть назву однієї із операцій графічного редактора (дивись малюнок):

Изображение:



Составьте слово из букв:

НДЬИАСП -> _____

Задание #34

Вопрос:

Із запропонованих літер складіть назву однієї із операцій графічного редактора (дивись малюнок):

Изображение:



Составьте слово из букв:

АИКЛЗАВ -> _____

Задание #35

Вопрос:

Із запропонованих літер складіть назву однієї із операцій графічного редактора (дивись малюнок):

Изображение:



Составьте слово из букв:

ЛИЬПЛРЕСЫТА -> _____

Конец